



PROBLÈMAS CM2 (1)

1

2

3

4

5

6

7

8

9

10

11

12

13

14

15

16

17

18

19

20

21

22

23

24

25

26

27

28


29

30

Cossí resòlvre un problèma ?

1/ Primièr, legissi la question (**en gras**).


Legissi lo tèxte del problèma. Lo tèxte, es coma una istòria.




2/ Me conti l'istòria e ensagi de comprene çò que se passa. Me pòdi ajudar del material de la **brústia de problèmas**.



3/ Quand ai plan comprés çò que se passa, pòdi far un dessenh, escriure... per trobar la resposna a la question.



4/ Pòdi ara escriure l'operacion que correspond a mon dessenh puèi respondre a la question en fasant una frasa.



Verifiqui que ma resulta es possibla.



PROBLÈMAS CM2 (1)

1

Le tren Le Havre-Paris es partit de Le Havre amb 1 474 personas. 119 personas son montadas a l'estacion de Rouen.

Quantas personas compta lo tren en arribant a París ?



PROBLÈMAS CM2 (1)

2

Maman a crompat 3 paquets de 36 bonbons d'Halloween. Aprèp lo passatge dels enfants lo ser d'Halloween, aviá pas que 15 bonbons.

Quantes bonbons distribuiguèt ?



PROBLÈMAS CM2 (1)

3

Paul a ajustat 20 euros dins sa dernieròla, gràcias al present de sa menina. Volda doncas la dernieròla e compta qu'a al total 174,50 euros. **Quant d'argent i aviá dins sa dernieròla abans lo present de sa menina ?**



PROBLÈMAS CM2 (1)

4

Dins son verdièr, lo sénher Dupond a amassat 73 prunas, 214 pomas e 165 peras.

Quantas fruchas a al total ?



PROBLÈMAS CM2 (1)

5

L'ortalièr sap qu'i an 9 rengadas de 18 arbres dins lo parc de la vila. Aqueles arbres son siá de garrics (fr : chênes), siá de faus (fr : hêtres). Comptèt 76 faus. **Quantes garrics i a dins lo parc ?**



PROBLÈMAS CM2 (1)

6

Ma menina a ganhat 320 euros al casino alara que mon papet a ganhat 155 euros.

Quant ma menina a ganhat de mai que mon papet ?



PROBLÈMAS CM2 (1)

7

Doni 1 carrat de chocolat a cada enfant. Ma tableta a 8 rengadas de 4 carrats caduna.

A quantes d'enfants pòdi donar 1 carrat de chocolat ?



PROBLÈMAS CM2 (1)

8

1 lustre es equipat de 8 ampolas.

Quantas ampolas caldriá per equipar 17 lustres ?



PROBLÈMAS CM2 (1)

9

La veitura fait des torns de pista pendent 30 minutas. Li cal 1 minuta e 30 segondas per far 1 torn.

Quantes torns a faches ?



PROBLÈMAS CM2 (1)

10

Dins un maridatge, i a 126 convidats que son assetats a l'entorn de 21 taulas. **Quantes convidats i an per taula ?**



PROBLÈMAS CM2 (1)

11

L'escòla compta 218 pichons quasèrns dins sos armaris. Per aprestar la dintrada, la directriç de l'escòla comanda encara 525 quasèrns. **Quantes quasèrns aurà a la dintrada ?**



PROBLÈMAS CM2 (1)

12

Dins son jardin, mon papet aviá comptat 36 tomatas pichonas abans de partir en vacances. Quant tornèt de vacances, comptèt 93 tomates.

Quantas tomatas butèron pendent son abséncia ?



PROBLÈMAS CM2 (1)

13

Dins lo camp, l'agricultor menèt 36 novèls motons. Ara, son troupeu compta 125 motons al total. **Quantes motons aviá al començament ?**



PROBLÈMAS CM2 (1)

14

La mèstra a comptat 4 brústias de 12 gredons negres, 63 gredons grises e 49 gredons de color dins la classa.

Quantes gredons compta al total ?



PROBLÈMAS CM2 (1)

15

Ma menina a plantat 4 rengadas de 12 flors dins son jardin. I a de tulipas o de ròsas. Se soven qu'i avián 24 tulipas.
Quantas ròsa i avián ?



PROBLÈMAS CM2 (1)

16

Mon escòla compta 98 escolans alara que la de mon cosin a 131 escolans.

Quantes escolans nòstra escòla a de mens ?



PROBLÈMAS CM2 (1)

17

Un borièr a plantat 21 rengadas de 12 ensaladas.

A plantat mai de 250 ensaladas ?



PROBLÈMAS CM2 (1)

18

Dins una caissa de supermercat, i a 24 bilhets de 100 € e 8 bilhets de 50 €. **Quina soma i a en euros dins la caissa ?**



PROBLÈMAS CM2 (1)

19

Sul jòc de l'auca, avanci de 5 casas en 5 casas.

Quantes torns me caldrà per arribar a la casa 60 en partissant de la primera casa ?



PROBLÈMAS CM2 (1)

20

Un paquet de 6 grandas botelhas de chuc de frucha còsta 12,60 €. **Quant còsta una sola botelha ?**



PROBLÈMAS CM2 (1)

21

Lo jardin es organizat en 3 rengadas de 5 emplaçaments per las plantas aromaticas.

Quantas menas de plantas anam poder plantar ?



PROBLÈMAS CM2 (1)

22

Louis a crompat 2,5 kg de bonbons a 5 € lo quilograma.

Quant a pagat ?



PROBLÈMAS CM2 (1)

23

Per confeccionar una toalha, ai besonh de 3 m^2 d'estòfa. Ai un estòc de 48 m^2 d'estòfa.

Quantas toalhas pòdi fabricar en tot ?

+



PROBLÈMAS CM2 (1)

24

Per aprestar la fèsta d'anniversari, mamà a menat 3 paquets de 6 parts de cake, 6 parts de tarta al citron e 9 parts de tarta al chocolat.

Quantes parts de cake i a al total ?



PROBLÈMAS CM2 (1)

25

Le borièr vòl aver 1600 polalhas dins son elevatge. A ja 250 polas.

Quantes rits deu crompar per completar son elevatge ?



PROBLÈMAS CM2 (1)

26

La corsa es acabada. Alain a corregut en 49 segondas mentre qu'Alexandre a corregut en 1 min10.

Quant de temps de mens a mes Alain ?



PROBLÈMAS CM2 (1)

27

Mon fuèlh es quadrilhat amb 22 carrèus en largor e 31 carrèus en longor.

Quantes carrèus i a ?



PROBLÈMAS CM2 (1)

28

Lo prètz d'una cambra d'ostalariá es de 45 € per persona e per nuèch. Un grop de 17 personas passa una nuèch a l'ostalariá.

Quant lo grop deu pagar per son sejour ?



PROBLÈMAS CM2 (1)

29

Amb 450 €, quantes diccionaris a 22,5 € pòdi crompar per la classa ?



PROBLÈMAS CM2 (1)

30

L'organizador d'una corsa a pè a recebut 11 414 €. I a 1756 correires que participan a la corsa.

Quant correire a pagat per s'inscriure ?

